



Colégio
Puríssimo
REDE ICM DE EDUCAÇÃO



ICM
REDE DE EDUCAÇÃO
E ASSISTÊNCIA SOCIAL

II SIMULADO – 7º ANO - 2017

NOME: _____ Nº _____ 7º ANO _____

PORTUGUÊS

CIÊNCIAS

HISTÓRIA

INGLÊS

GEOGRAFIA

ARTES

MATEMÁTICA

FILOSOFIA

Leia a prova com atenção.

Faça os cálculos dos exercícios na prova.

NÃO é permitido o uso de calculadora.

NÃO é permitido o uso de dicionário.

Escreva as respostas à tinta.

Preencha o gabarito com caneta preta.

INÍCIO DA PROVA: 07H20.

TÉRMINO DA PROVA: 11H50.

Dia: 23/10/2017

→ PORTUGUÊS

- Leia a estrofe a seguir para responder às questões 1 e 2.

TROCA

Troca-se um homem-aranha de mentira
por uma aranha de verdade.
Uma aranha competente
que teça belas teias transparentes,
que pegue moscas, mosquitos
e não entenda nada de bandidos.
Uma aranha que seja
uma aranha simplesmente.

MURRAY, Roseana. *Classificados poéticos*. Belo Horizonte: Miguilim, 1991. p. 17.

1. Que formas verbais do poema indicam que o eu lírico expressa um desejo que pode ou não se realizar?
 - a) Troca, teça, por, seja.
 - b) Teça, pegue, entenda, seja.
 - c) Pegue, troca, seja, teça.
 - d) Por, entenda, pegue, seja.
 - e) Teça, nada, troca, seja.
2. Em que tempo e modo estão as formas verbais que você assinalou na questão número 1?
 - a) Presente do subjuntivo.
 - b) Pretérito imperfeito do subjuntivo.
 - c) Presente do indicativo.
 - d) Futuro do presente do indicativo.
 - e) Futuro do subjuntivo.
3. As frases a seguir apresentam verbos que possuem duas formas equivalentes, o particípio regular e o irregular. Em qual delas o particípio foi usado **incorretamente**?
 - a) O empresário corrupto foi expulso da palestra.
 - b) Uma criança havia-lhe entregado o bilhete.
 - c) Marina havia gastado todo o salário em roupas e sapatos.
 - d) Ela já tinha aceito o presente.
 - e) Todos os dias, o fogo é aceso.

- Leia este trecho do relato de Clarice Niskier para responder às questões 4, 5 e 6.

Strike a pose

Tive a oportunidade neste ano de ir a Paris. E visitar o Louvre. Setas indicam o caminho para chegar à sala em que está um dos quadros **mais** famosos do mundo: a *Mona Lisa*. Eu estava com uma expectativa infantil. Seria a primeira vez diante da Moça. O que me esperava?

[...]

Ela é **muito mais** jovem do que eu pensava. E mais serena. E a maioria se vira de costas, se fotografa e vai embora. O quê? A pessoa enfrenta todos os tipos de obstáculos e, diante da obra **mais** comentada do mundo, se fotografa ao estilo “Eu e a Obra” e vai embora? Sem ao menos esboçar uma opinião? Sem investigar o motivo de seu sorriso? Está feliz? Angustiado? Será o próprio Leonardo da Vinci, versão feminina?

[...]

Clarice Niskier. “Strike a pose”. Revista *Viagem e Turismo*. SP: Abril, set. 2013. p. 37.

4. As palavras em destaque no texto pertencem à classe gramatical dos:
- Adjetivos.
 - Verbos.
 - Artigos.
 - Advérbios.
 - Substantivos.
5. Todas as palavras destacadas modificam outras palavras do texto ao dar a elas um valor semântico de:
- Afirmção.
 - Dúvida.
 - Modo.
 - Tempo.
 - Intensidade.
6. No trecho “E mais serena”, a palavra **mais** está modificando um _____, atribuindo-lhe uma circunstância de _____.
- Substantivo – modo.
 - Substantivo – intensidade.
 - Adjetivo – intensidade.
 - Verbo – intensidade.
 - Adjetivo – modo.

7. Dentre as palavras do retângulo abaixo, são advérbios de **lugar**:

longe muito pior bastante acaso realmente nunca
 tampouco suavemente mal jamais abaixo demais aqui adiante
 menos não amanhã ontem sim

- a) Pior, mal, nunca, longe. d) Nunca, acaso, bastante, demais.
 b) Longe, acaso, sim, suavemente. e) Adiante, longe, abaixo, aqui.
 c) Aqui, adiante, acaso, realmente.

8. Leia a tirinha.



Alexandre Beck. *Armandinho*. Disponível em: <<http://tirasbeck.blogspot.com.br>>. Acesso em: mar. 2015.

- A preposição que poderia substituir a palavra **com** na frase “Fala com seu pai”, fazendo com que a fala da mãe fosse melhor compreendida pelo filho é:

a) Para. c) Após. e) Por.
 b) Sobre. d) Contra.
- Leia.

“Atravessou a mocidade **numa** intercadência de catástrofes.” (*Euclides da Cunha*)

9. A palavra destacada é formada pelo processo de contração dos seguintes elementos:

- a) Preposição **na** + artigo indefinido **uma**. d) Advérbio **em** + artigo definido **uma**.
 b) Preposição **em** + artigo indefinido **uma**. e) Advérbio **em** + artigo indefinido **uma**.
 c) Preposição **na** + artigo definido **uma**.

10. Assinale a alternativa que apresenta **locução prepositiva**.

- a) Perante o juiz, ele negou o crime.
 b) Desde o início do ano, tenho feito as tarefas solicitadas.
 c) As justificativas estão de acordo com a lei.
 d) Li toda a obra de Guimarães Rosa.
 e) Tomei um copo de água antes de dormir.

→ HISTÓRIA

11. As principais características do Renascimento foram:

- a) Teocentrismo, realismo e intensa espiritualidade.
- b) Romantismo, espírito crítico em relação à política, temas de inspiração exclusivamente naturalistas.
- c) Ausência de perspectiva e adoção de temas do cotidiano religioso, tendo como foco apenas os valores espirituais.
- d) Uso de temas ecológicos evidenciando a preocupação com o meio ambiente, execução de variados retratos de personalidades da época.
- e) Antropocentrismo, humanismo e inspiração greco-romana.

12. Assinale a alternativa CORRETA. São características do feudalismo:

- a) A economia de consumo baseada em mercadorias industrializadas, produzidas pelas corporações de ofício.
- b) A centralização do poder político em mãos dos reis e dos imperadores, em detrimento da nobreza e da burguesia.
- c) O estabelecimento de fortes vínculos de dependência pessoal, na forma de suserania e vassalagem.
- d) A valorização da terra mediante cultivos intensivos, levados a efeito por mão-de-obra assalariada.
- e) O desenvolvimento de uma cultura laica baseada em valores humanistas, antropocêntricos e universalistas.

13. Apesar de não terem alcançado seu objetivo - reconquistar a Terra Santa -, as Cruzadas provocaram amplas repercussões, porque:

- a) Favoreceram a formação de vários reinos cristãos no Oriente, o que permitiu maior estabilidade política à região.
- b) Consolidaram o feudalismo, em virtude da unificação dos vários reinos em torno de um objetivo comum.
- c) Facilitaram a superação das rivalidades nacionais graças à influência que a Igreja então exercia.
- d) Uniram os esforços do mundo cristão europeu para eliminar o domínio árabe na Península Ibérica.
- e) Estimularam as relações comerciais do Oriente com o Ocidente, graças à abertura do Mediterrâneo a navios europeus.

14. Qual das alternativas abaixo aponta apenas os principais impostos e taxas que os servos deviam aos senhores feudais na Idade Média?

- a) Dízimo (10% da produção), corveia (trabalho de 3 a 4 dias nas terras do senhor feudal) e imposto sobre uso da água e esgoto.
- b) Dízimo (10% da produção), imposto sobre o uso de armas dos cavaleiros e imposto e taxa pela circulação e uso de moedas.
- c) Imposto sobre a venda e compra de todas as mercadorias, imposto sobre os animais abatidos, imposto sobre o nascimento de filhos.
- d) Corveia (trabalho de 3 a 4 dias nas terras do senhor feudal), talha (metade da produção) e banalidades (taxas pagas pela utilização do moinho e forno do senhor feudal).
- e) Corveia (trabalho de 3 a 4 dias nas terras do senhor feudal), Imposto sobre a venda e compra de todas as mercadorias, imposto sobre o nascimento de filhos.

15. Qual das alternativas abaixo aponta características da religião na Idade Média?

- a) Várias igrejas cristãs e protestantes atuavam na Europa Medieval.
- b) A Igreja Católica dominava na Europa Medieval, controlando a produção cultural e tendo grande influência sobre a vida espiritual das pessoas.
- c) As pessoas não davam importância à religião na Idade Média, sendo que grande parte da população era composta por ateus.
- d) Embora monopolizasse a vida religiosa na Idade Média, a Igreja Católica era muito aberta aos avanços científicos e manifestações culturais diversas.
- e) O islamismo predominava na Europa.

16. Sobre a arte na Idade Média é correto afirmar que:

- a) Na pintura, os temas religiosos predominaram, fruto da influência da Igreja Católica. Na arquitetura, prevaleceram dois estilos: românico e gótico.
- b) Busca da perfeição estética e enfoque nos temas mitológicos foram duas importantes características da arte medieval.
- c) A arte medieval recebeu grande influência da arte egípcia, sendo que o principal pintor medieval foi Leonardo da Vinci.
- d) A pintura rupestre foi a principal característica da arte na Idade Média.
- e) O renascimento cultural era a principal escola artística.

→ GEOGRAFIA

17. (ENEM 2016) Os moradores de Andalsnes, na Noruega, poderiam se dar ao luxo de morar perto do trabalho nos dias úteis e de se refugiar na calma do bosque aos fins de semana. E sem sair da mesma casa. Bastaria achar uma vaga para estacionar o imóvel antes de curtir o novo endereço.

Disponível em: <http://casavogue.globo.com>. Acesso em 3 out 2015 (adaptado)




* Uma vez implementada, essa proposta afetaria a dinâmica do espaço urbano por reduzir a intensidade do seguinte processo:

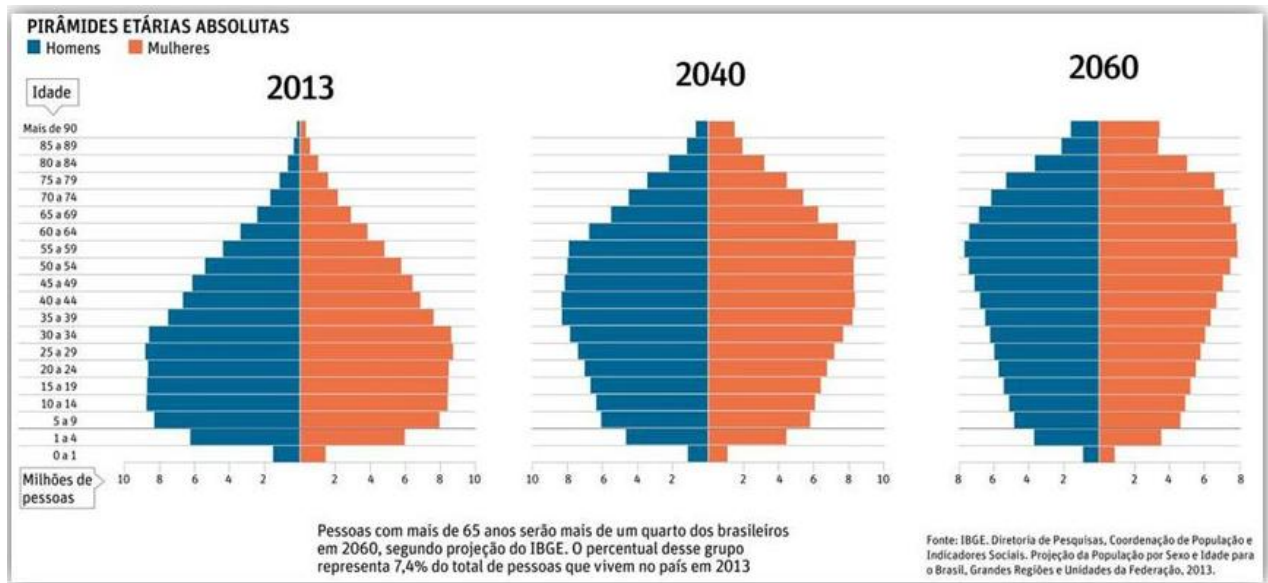
- a) Êxodo rural.
- b) Movimento pendular.
- c) Migração de retorno.
- d) Deslocamento sazonal.
- e) Ocupação de áreas centrais.

18. Observe a charge do cartunista Latuff e indique a alternativa que melhor explica a origem e as consequências de tal situação no espaço agrário brasileiro.

- a) Distribuição fundiária após a Lei de terras (1850) / Apropriação de minifúndios por parte dos pequenos produtores.
- b) Capitâneas Hereditárias no Brasil colonial / Equilíbrio entre latifúndios e minifúndios voltados à exportação.
- c) Concentração fundiária histórica / Latifúndios agroexportadores ocupando a maior parte do espaço agrário brasileiro.
- d) Redistribuição de terras no Brasil / Minifúndios do agronegócio reivindicando mais terras.
- e) Terras doadas aos imigrantes / Parcerias entre indígenas e movimentos sociais do campo.



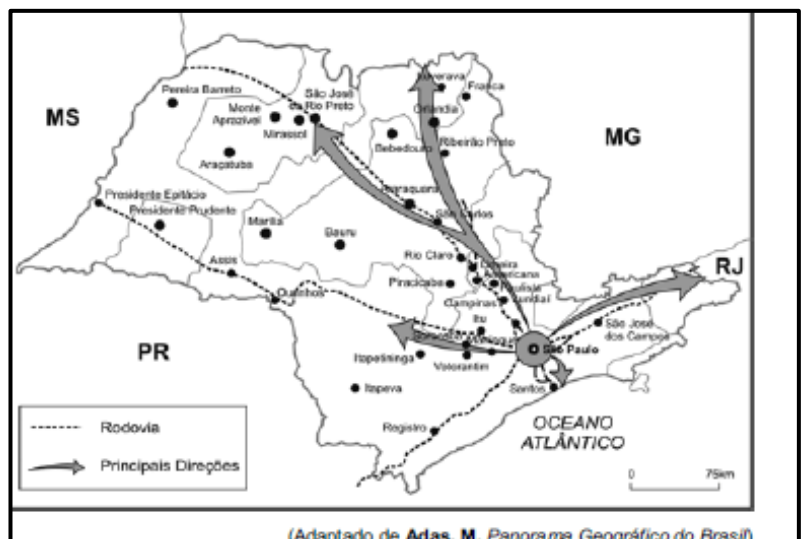
19. As pirâmides etárias a seguir, nos dão uma perspectiva da dinâmica demográfica brasileira para os próximos anos.



- Sobre o panorama apresentado nas pirâmides, podemos afirmar que:
 - a) O Brasil apresentará um envelhecimento populacional, resultante do aumento da natalidade e dos retrocessos sociais, que não promoveram uma melhoria na qualidade de vida da população.
 - b) Fica evidente o aumento da natalidade, bem como da expectativa de vida, fruto da inserção das mulheres no mercado de trabalho.
 - c) O Brasil perderá o título de “país de jovens” uma vez que a maior parte da população será composta por adultos e idosos. Tal realidade irá exigir políticas sociais que atentem para o envelhecimento populacional.
 - d) O estreitamento da base da pirâmide etária brasileira indica um menor número de crianças, provavelmente vítimas da mortalidade infantil.
 - e) O Brasil não necessitará pensar em políticas ligadas à previdência e aposentadoria uma vez que a população tenderá a diminuir gradativamente.

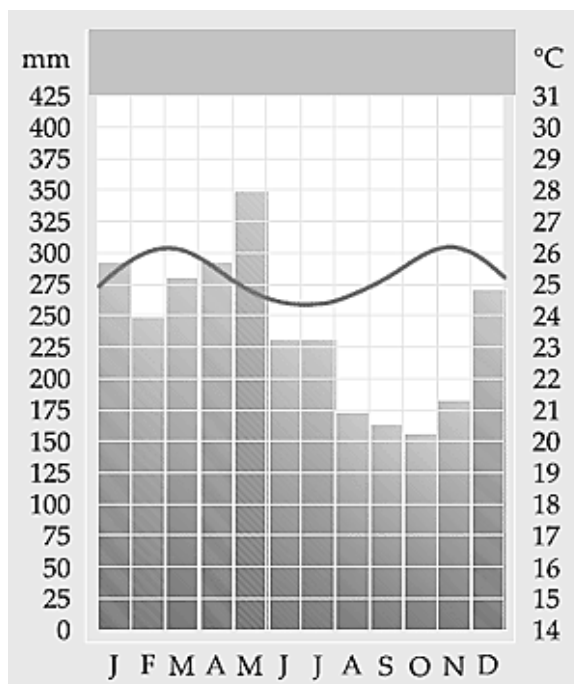
20. O mapa ao lado indica o sentido da localização das indústrias paulistas a partir das últimas décadas. Escolha o melhor título para esta representação cartográfica.

- a) Indústrias paulistas: aglomeração e logística estadual.
- b) Indústrias paulistas: vantagens e benefícios da capital.



- c) Guerra Fiscal: motivos para a concentração industrial na capital.
- d) Novos polos industriais: desvantagens oferecidas por cidades de médio porte.
- e) Produção industrial: desconcentração e lucros para o estado de São Paulo.

21. Observe o climograma abaixo e escolha a alternativa com os termos que completam corretamente a sentença.



O climograma pode ser de alguma cidade do Estado do _____, na região _____, com precipitações médias anuais _____ e amplitude térmica _____. Além disso, podemos dizer que a _____ exerce influência sobre esse clima.

- a) Rio de Janeiro / Sudeste / baixas / elevada / Mata Atlântica.
- b) Paraná / Sul / elevadas / moderada / Mata dos Pinhais.
- c) Amazonas / Nordeste / baixas / constante / Caatinga.
- d) Amazonas / Norte / elevadas / moderada / Floresta Amazônica.
- e) Acre / Nordeste / elevadas / moderada / Floresta Amazônica.

22. Sobre a urbanização brasileira, é **incorreto** afirmar.

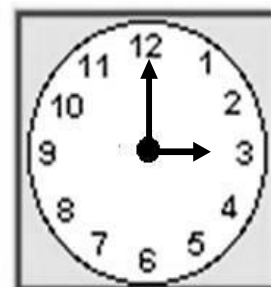
- a) O processo de urbanização brasileira apoiou-se essencialmente, no êxodo rural, ou seja, na transferência de populações do meio rural para as cidades.
- b) O processo de urbanização da população brasileira é uniforme. Os estados do país apresentam uma urbanização de pouco contraste na distribuição da população rural e urbana.

- c) A violência urbana nas metrópoles brasileiras está relacionada a uma série de fatores sociais e econômicos, como: o subemprego, o crescimento de favelas.
- d) A recente transformação do Brasil em sociedade urbana deixa para trás as estruturas econômicas e os comportamentos reprodutivos típicos do meio rural.
- e) A hierarquização do espaço brasileiro do ponto de vista urbano, apresenta grande concentração de indústria e serviços na metrópole nacional, representada por São Paulo.

→ MATEMÁTICA

23. Os dois ângulos formados pelos ponteiros de um relógio às 3 horas medem:

- a) 45° e 160° .
- b) 60° e 180° .
- c) 90° e 180° .
- d) 90° e 270° .
- e) 45° e 90° .



24. (OMABC-SP) Num estacionamento temos carros e motos totalizando 23 veículos. Contando o número de rodas dos carros e das motos, verifica-se que existem 14 rodas de carro a mais do que as rodas de moto. Portanto, o número total de rodas no estacionamento é:

- a) 54.
- b) 66.
- c) 74.
- d) 80.
- e) 84.

25. (CBM-RJ) Dona Estela saiu de casa com R\$ 360,00 gastando toda essa quantia em três estabelecimentos: padaria, açougue e farmácia, como mostra a figura. Estela gastou na farmácia o triplo do que gastou no açougue e no açougue o dobro do que gastou na padaria.

O valor pago por Estela na padaria foi de:

- a) 40 reais.
- b) 60 reais.
- c) 72 reais.
- d) 120 reais.
- e) 180 reais.



26. Determine a solução da equação: $\frac{t+2}{4} - \frac{t-2}{6} = \frac{2}{3} + t$

a) $t = \frac{6}{11}$.

b) $t = \frac{4}{11}$.

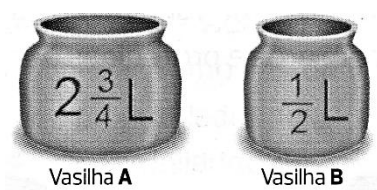
c) $t = \frac{2}{11}$.

d) $t = \frac{-2}{11}$.

e) $t = 0$.

27. Observe a capacidade de cada vasilha e responda: para encher a vasilha A, quantas vasilhas B são necessárias?

- a) 4 vasilhas.
 b) 4 vasilhas e meia.
 c) 5 vasilhas.
 d) 5 vasilhas e meia.
 e) 6 vasilhas.

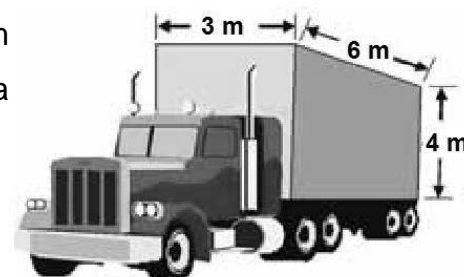


28. Na minha sala de aula, o chão é coberto com pisos sintéticos em placas que medem 30 cm x 30 cm. Conte 21 lajotas paralelamente a uma parede e 24 pisos na direção perpendicular. Qual a área dessa sala? (dica: transforme tudo em m.)

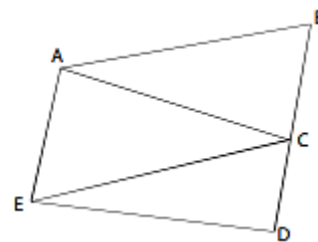
- a) 453 600 m².
 b) 45 360 m².
 c) 4 536 m².
 d) 453,6 m².
 e) 45,36 m².

29. A carroceria de um caminhão-baú, como o da figura abaixo, tem 3 m de largura, 6 m de comprimento e 4 m de altura. Qual a capacidade da carroceria deste caminhão?

- a) 13 m³.
 b) 22 m³.
 c) 27 m³.
 d) 36 m³.
 e) 72 m³.



30. Na figura, C é um ponto do segmento BD tal que ACDE é um retângulo e ABCE é um paralelogramo de área 22 cm^2 . Qual é a área de ABDE, em cm^2 ?



- a) 28.
- b) 33.
- c) 36.
- d) 42.
- e) 44.

31. Por conta da erupção de um vulcão, 10% dos voos de um aeroporto foram cancelados. Dos voos restantes, 20% foram cancelados pela chuva. Que porcentagem do total de voos deste aeroporto foram cancelados?

- a) 28%.
- b) 30%.
- c) 35%.
- d) 38%.
- e) 70%.

32. Uma barra de chocolate é dividida entre Carla, Cris e Adriana. Sabendo que Carla ganha $\frac{2}{5}$

da barra, Cris ganha $\frac{1}{4}$ e Adriana ganha 70 gramas, o peso da barra, em gramas, é:


- a) 160 g.
- b) 200 g.
- c) 240 g.
- d) 250 g.
- e) 280 g.

→ CIÊNCIAS

33. Os animais endotérmicos dependem do metabolismo para produzir calor, elevar a temperatura e mantê-la constante. Essa adaptação é fundamental para:

- a) Os répteis e os anfíbios.
- b) As aves e os mamíferos.
- c) Os répteis e as aves.
- d) Os mamíferos e os répteis.
- e) Os peixes e os anfíbios.

34. Uma empresa dedetizadora expôs o seguinte anúncio:



- Analisando a propaganda da empresa, pode-se afirmar:
 - I) O anúncio contém informações incorretas, porque além de insetos, temos citado no anúncio, aracnídeos e mamíferos.
 - II) Os insetos citados no anúncio são: as baratas, escorpiões e as formigas.
 - III) Os aracnídeos são as aranhas, escorpiões e formigas, enquanto que o rato é o único mamífero.
- Está(ão) correta(s) a(s) afirmativa(s):
 - a) Somente I.
 - b) Somente II.
 - c) Somente III.
 - d) I, II e III.
 - e) Somente I e II.

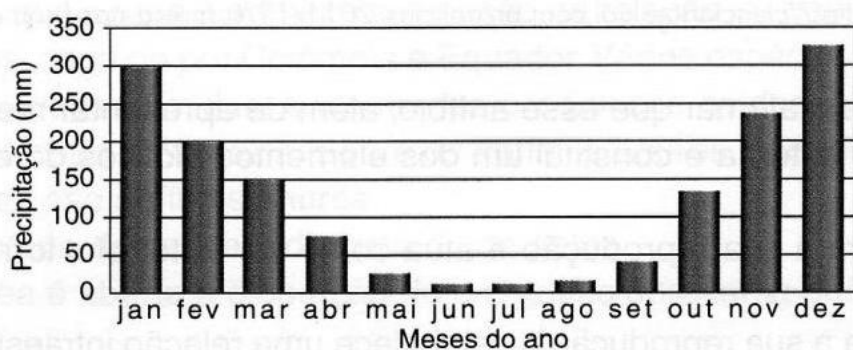
35. Nas receitas de pães, o fermento biológico deve ser adicionado à água morna, pois essa temperatura facilita o desempenho dos microrganismos presentes no fermento conhecido como _____, que realizam o processo de _____, e liberam _____ responsável pelo crescimento da massa, além de produzirem _____ durante a realização desse processo.

- a) Bactérias, fermentação alcoólica, oxigênio, álcool etílico.
- b) Bactérias, respiração celular, gás carbônico, oxigênio.
- c) Fungos (levedura), fotossíntese, gás carbônico, álcool etílico.
- d) Fungos (leveduras), fotossíntese, oxigênio, gás carbônico.
- e) Fungos (leveduras), fermentação alcoólica, gás carbônico, álcool etílico.

36. Um aluno observou uma flor com grande quantidade de néctar, com um odor muito acentuado durante a noite, resistente e sem coloração atrativa (esbranquiçada). Ao analisar essas características, ele chegou à conclusão de que o polinizador era, provavelmente:

- a) Uma abelha.
- b) Um beija-flor.
- c) Um bem-te-vi.
- d) Um morcego.
- e) O vento.

37. Em uma área observa-se o seguinte regime pluviométrico:



Os anfíbios são seres que podem ocupar tanto ambientes aquáticos, quanto terrestres. Entretanto, há espécies de anfíbios que passam todo o tempo na terra ou na água. Apesar disso, a maioria das espécies terrestres depende de água para se reproduzir e para a postura dos seus ovos, sendo assim, a reprodução ocorre quando esta existe em abundância. Quais os meses do ano em que, nessa área, esses anfíbios terrestres poderiam se reproduzir de forma eficiente?

- a) Janeiro, fevereiro, março e abril.
- b) Setembro, outubro, novembro e dezembro.
- c) Janeiro, fevereiro, novembro e dezembro.
- d) Março, abril, setembro e outubro.
- e) Maio, junho, julho e agosto.

38. Os répteis surgiram na Terra há 300 milhões de anos. Eles foram os primeiros vertebrados a conquistar plenamente o meio terrestre, pois alguns fatores adaptativos permitiram que esses animais explorassem o ambiente terrestre, dentre eles, destacam:

- a) Pele úmida e ovos com casca gelatinosa.
- b) Pele úmida e ovos com casca calcária (amniótico).
- c) Pele seca e ovos com casca calcária (amniótico).
- d) Pele seca e ausência de ovos na reprodução.
- e) Pele seca e ovos com casca gelatinosa.

39. A classe dos peixes pode ser dividida em três grupos que apresentam particularidades biológicas. As informações a seguir referem-se às características de cada um desses grupos:

- I) Esqueleto ósseo, brânquias, fecundação externa e desenvolvimento com fase larval.
- II) Corpo alongado, cilíndrico, desprovido de escamas, pele recoberta por muco, boca que funciona como uma ventosa.
- III) Esqueleto cartilaginoso, presença de espiráculo, fecundação interna e desenvolvimento sem fase larval.

• Escolha a alternativa que apresenta exemplos de animais com características das afirmativas I, II e III, respectivamente:

- | | |
|---------------------------------|---------------------------------|
| a) Lambari, raia e tubarão. | d) Tubarão, lampreia e lambari. |
| b) Lambari, lampreia e tubarão. | e) Tubarão, raia e lampreia. |
| c) Tubarão, lampreia e raia. | |

40. “O pinhão pertence à árvore símbolo do Estado do Paraná, a Araucária. Ele é o principal alimento da gralha azul durante o inverno. Graças a essa interação entre as duas espécies, ambas têm conseguido se perpetuar através dos tempos, não só na natureza, mas também, no coração dos paranaenses.”

• O pinhão, originário da gimnosperma descrita acima, representa qual parte da araucária?

- | | | |
|-------------|----------|-----------|
| a) Fruto. | c) Flor. | e) Caule. |
| b) Semente. | d) Raiz. | |

→ INGLÊS

• Leia a tirinha para responder às questões:



41. No primeiro quadrinho, o pronome que completa corretamente a fala de Garfield é:

- a) You. b) Him. c) It. d) Her. e) Them.

42. No segundo quadrinho, o pronome que completa corretamente a fala de Garfield é:

- a) Me. b) You. c) Him. d) It. e) Her.

43. Na frase: "I love you for what you are", podemos considerar que:

- a) A palavra "I" é pronome objeto.
b) A palavra "you", nos dois casos, é pronome sujeito.
c) A palavra "you", nos dois casos, é pronome objeto.
d) A palavra "you" é pronome objeto no primeiro caso e pronome sujeito no segundo caso.
e) A palavra "you" é pronome sujeito no primeiro caso e pronome objeto no segundo caso.

44. De acordo com a tirinha, **NÃO** podemos afirmar que:

- a) Garfield arranhou o disco de Jon.
b) Garfield comeu a lasanha que Jon preparou para o jantar.
c) Jon esqueceu de molhar sua samambaia.
d) Jon se irrita com Garfield, mas reconhece que suas atitudes são normais para um gato, pede desculpas e diz que o ama.
e) Garfield aceita as desculpas de Jon.

45. No último quadrinho, Jon pergunta o que aconteceu com sua samambaia. Podemos inferir que:

- a) Garfield destruiu a samambaia de Jon.
b) Garfield não sabe o que aconteceu.
c) Jon esqueceu de molhar a planta.
d) Garfield sabe que Jon não cuida bem de suas coisas.
e) Garfield está preocupado, pois não sabe responder à questão de Jon.

→ ARTES

46. O desenhista brasileiro de histórias em quadrinhos, publicou em 1959 tirinhas com os personagens Bidu, cãozinho do Franjinha e amigo do Cebolinha. Mais tarde ele lança a revista da turma da Mônica. Qual o nome do desenhista de HQs?

- a) Ziraldo Alves Pinto. d) Adolfo Aizen.
b) Maurício de Souza. e) Di Cavalcanti.
c) Manoel Victor Filho.

47. O desenho, gravura ou escultura que exagera ou simplifica alguns traços da pessoa que é representada, denominamos de:

- a) Desenho retratista.
- b) Gótico.
- c) Desenho de memorização.
- d) Caricatura.
- e) Autorretrato.

48. O estilo de ilustração de origem francesa que tem por finalidade satirizar por meio de uma caricatura algum acontecimento atual com um ou mais personagens, exagerando traços de caráter de alguém ou de algo para torná-lo burlesco intitulamos de:

- a) Cartum.
- b) Mangá.
- c) Charge.
- d) Desenho estilístico.
- e) Croquis.



→ FILOSOFIA

49. Qual foi o marco histórico que caracteriza o início do período helenístico?

- a) Conquistas de Alexandre, o Grande.
- b) Guerra do Peloponeso.
- c) Guerra de Tróia.
- d) Nascimento de Sócrates.
- e) Passagem do discurso mítico para o discurso filosófico.

Alguns dos desejos são naturais e necessários; outros, naturais e não necessários; outros, nem naturais nem necessários, mas nascidos de vã opinião. Os desejos que não nos trazem dor se não satisfeitos não são necessários, mas o seu impulso pode ser facilmente desfeito, quando é difícil obter sua satisfação ou parecem geradores de dano.

EPICURO DE SAMOS. Doutrinas principais. In: SANSON, V. F. textos de filosofia. Rio de Janeiro: Eduff, 1974.

50. No fragmento da obra de Epicuro, o homem tem como fim:

- a) Alcançar o prazer moderado e a felicidade.
- b) Valorizar os deveres e as obrigações sociais.
- c) Aceitar o sofrimento e o rigorismo da vida com resignação.
- d) Refletir sobre os valores e as normas dadas pela divindade.
- e) Defender a indiferença e a impossibilidade de se atingir o saber.